



図をつかって考えよう

たし算とひき算のかんけい 2 (1)

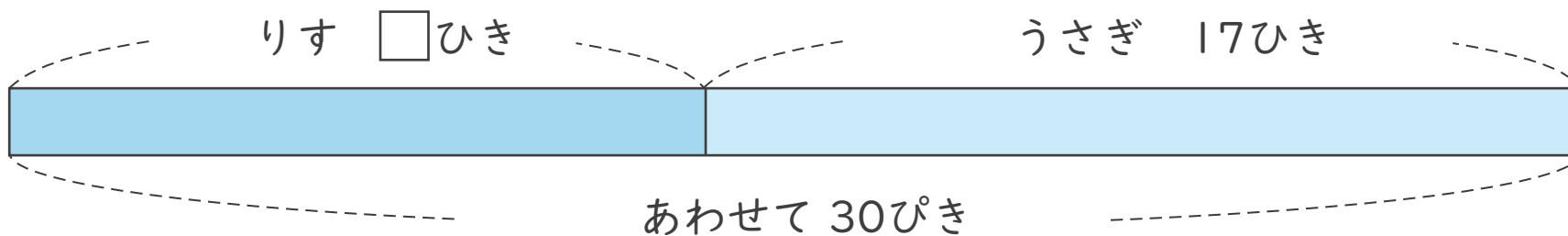
ねん
年

くみ
組

なまえ
名前

図を見て \square をもとめるしきと答えを書きましょう。

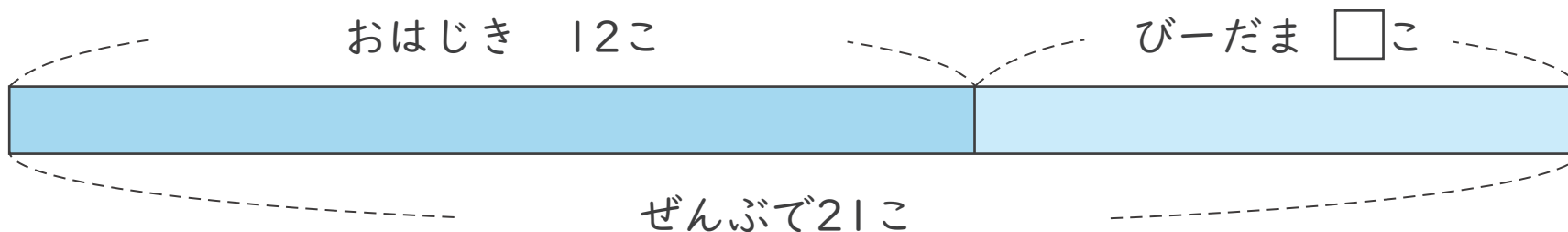
1 うさぎは何ひきですか。



(しき)

こた
答え

2 ビーだまは何こですか。



(しき)

こた
答え



図をつかって考えよう

たし算とひき算の かんけい 2 (2)

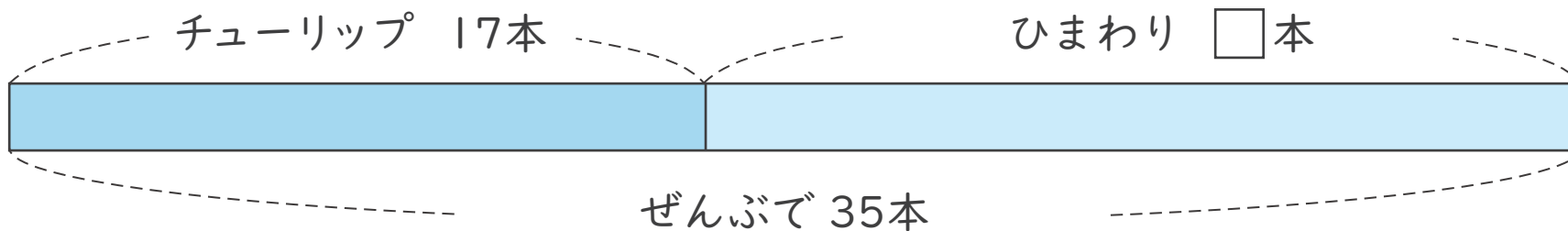
ねん
年

くみ
組

なまえ
名前

図を見て \square をもとめる しきと 答えを 書きましょう。

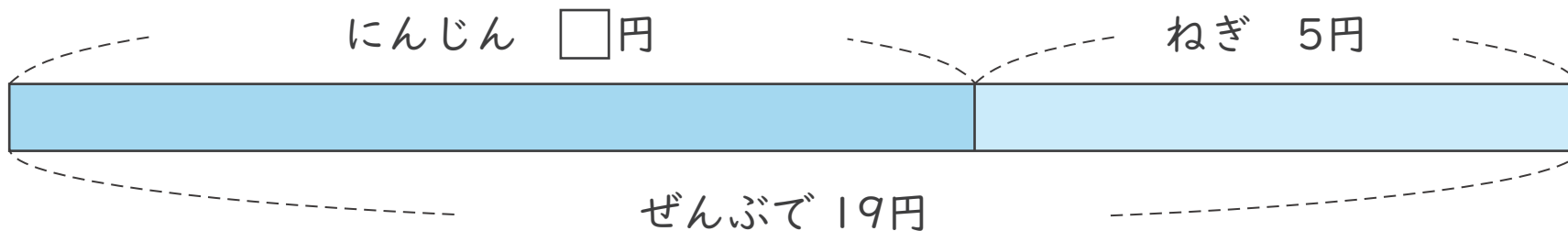
1 ひまわりは 何本ですか。



(しき)

答え

2 にんじんは いくらですか。



(しき)

答え



図をつかって考えよう

たし算とひき算のかんけい 2 (3)

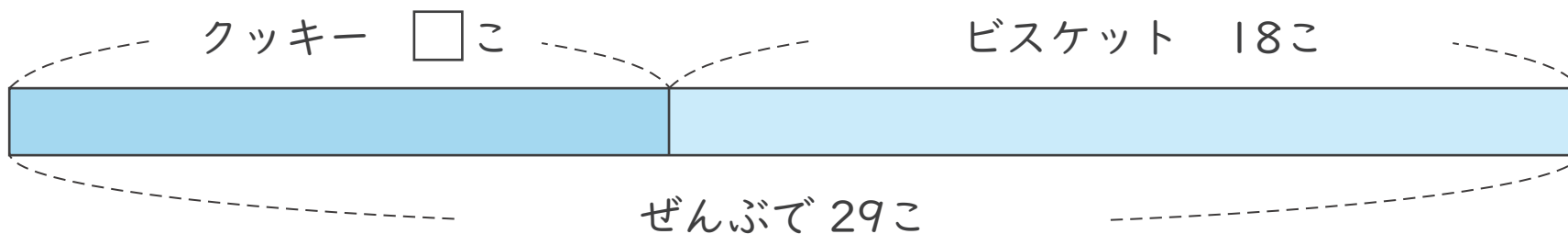
ねん
年

くみ
組

なまえ
名前

図を見て \square をもとめるしきと答えを書きましょう。

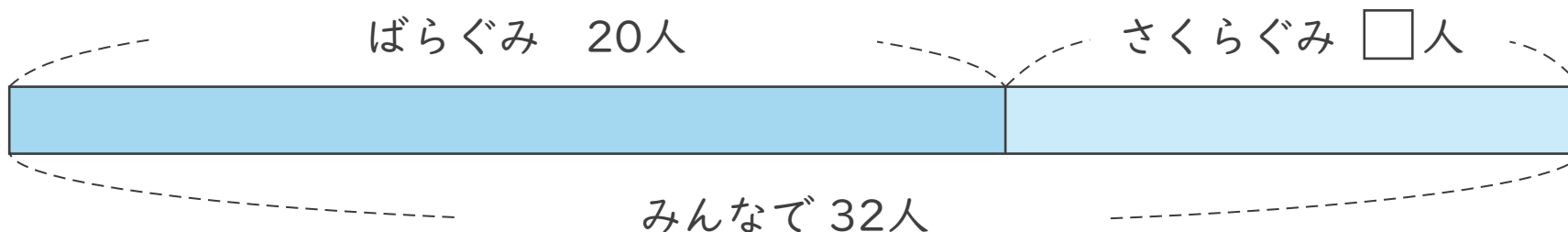
1 クッキーは何こですか。



(しき)

答え

2 さくらぐみは何人ですか。



(しき)

答え



図をつかって考えよう

たし算とひき算のかんけい 2 (4)

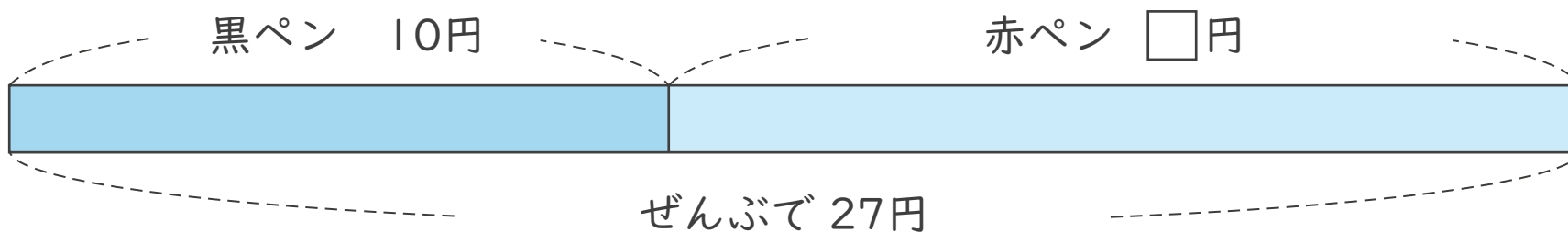
ねん
年

くみ
組

なまえ
名前

図を見て \square をもとめるしきと 答えを書きましょう。

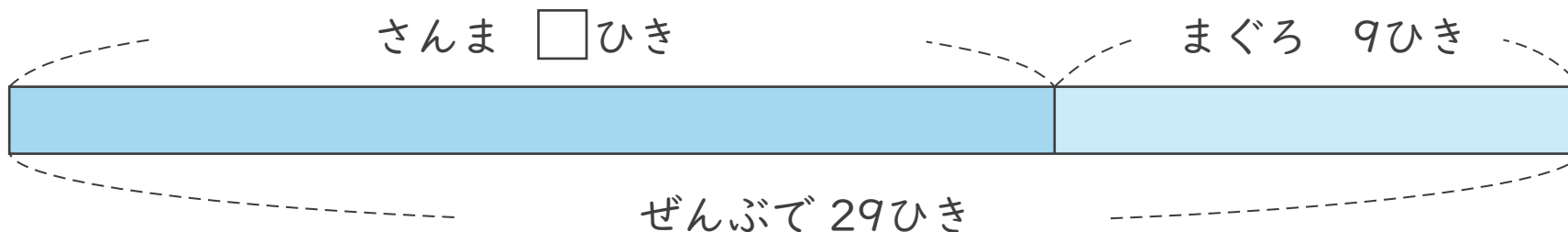
1 赤ペンはいくらですか。



(しき)

答え

2 さんまは何ひきですか。



(しき)

答え



図をつかって考えよう

たし算とひき算のかんけい 2 (5)

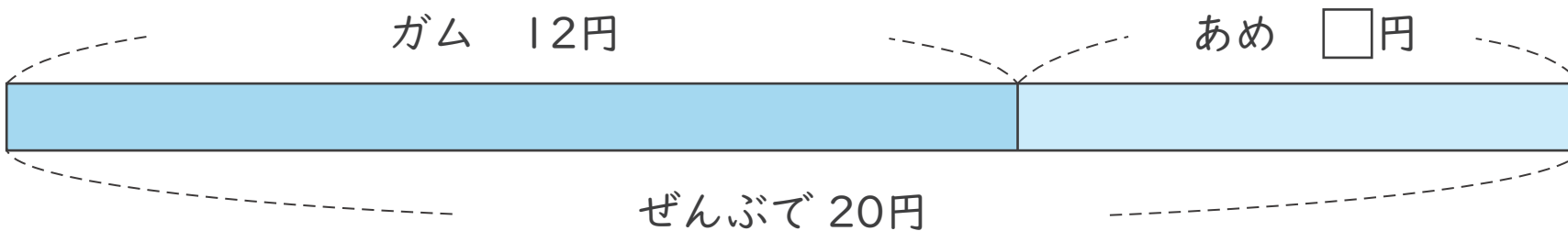
ねん
年

くみ
組

なまえ
名前

図を見て \square をもとめるしきと答えを書きましょう。

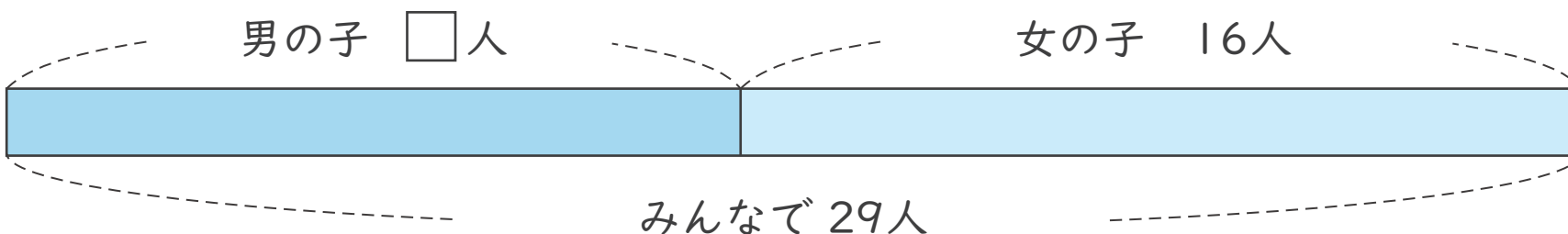
1 あめはいくらですか。



(しき)

答え

2 男の子は何人ですか。



(しき)

答え



図をつかって考えよう

たし算とひき算のかんけい 2 (6)

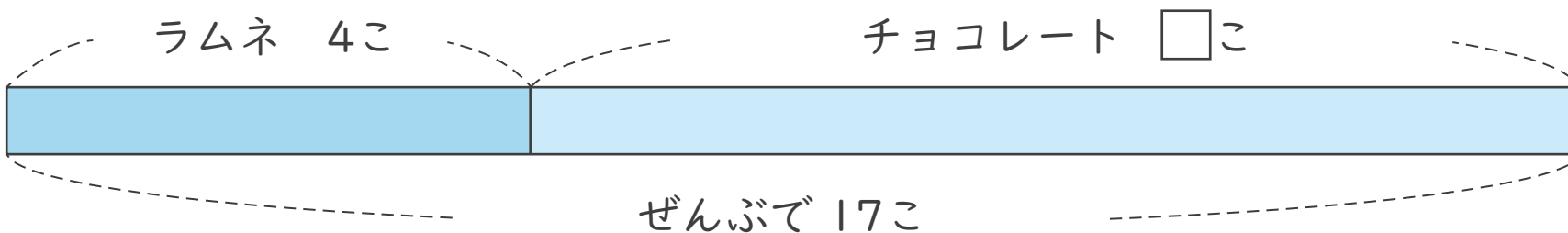
ねん
年

くみ
組

なまえ
名前

図を見て をもとめるしきと 答えを書きましょう。

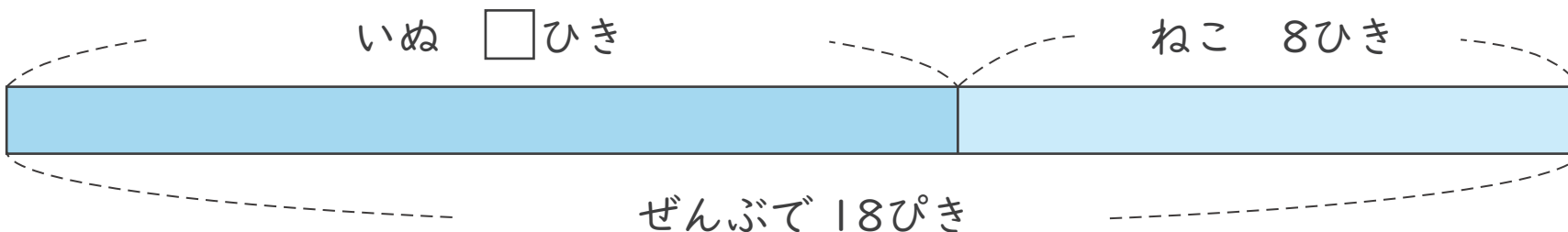
1 チョコレートは何こですか。



(しき)

答え

2 いぬは何びきですか。



(しき)

答え



図をつかって考えよう

たし算とひき算のかんけい 2 (7)

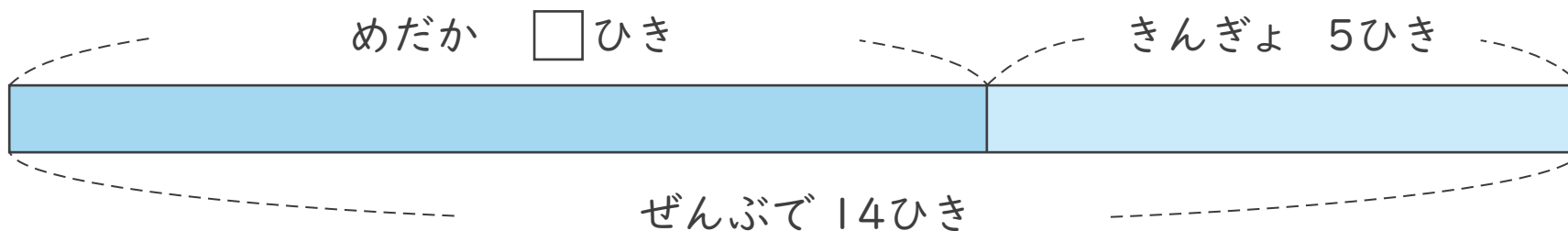
ねん
年

くみ
組

なまえ
名前

図を見て \square をもとめるしきと 答えを書きましょう。

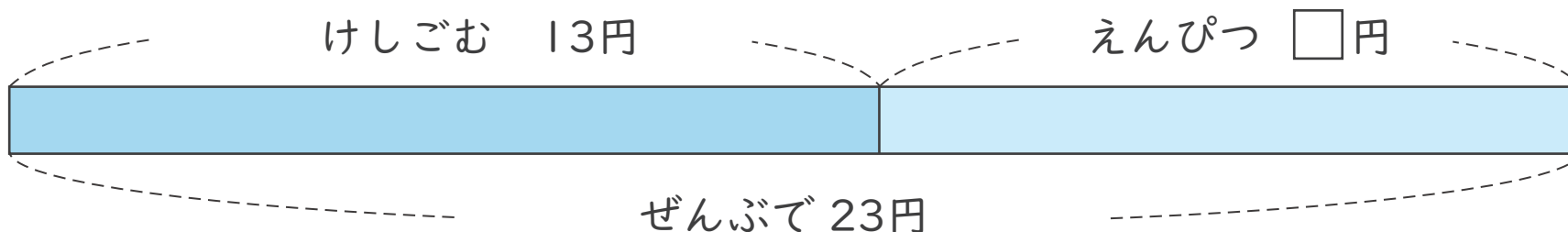
1 めだかは 何ひきですか。



(しき)

こた
答え

2 えんぴつは いくらですか。



(しき)

こた
答え



図をつかって考えよう

たし算とひき算のかんけい 2 (8)

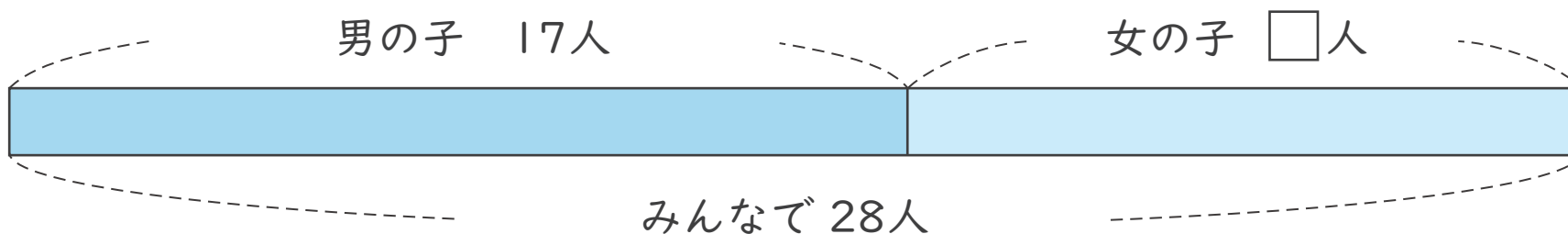
ねん
年

くみ
組

なまえ
名前

図を見て \square をもとめるしきと答えを書きましょう。

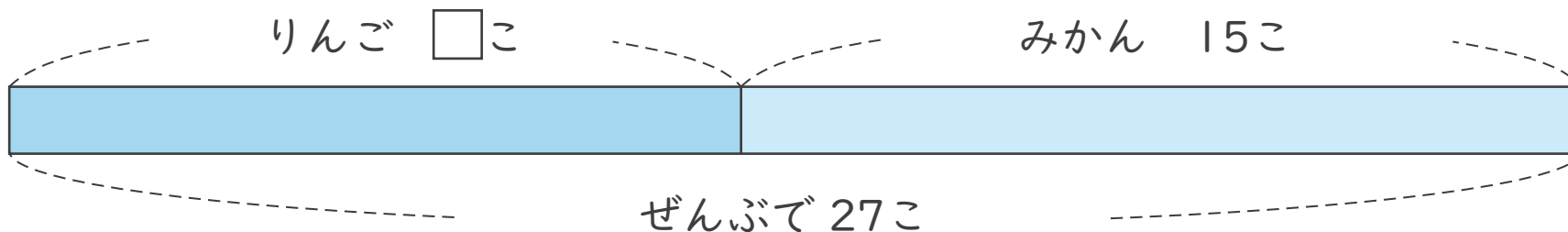
1 女の子は何人ですか。



(しき)

答え

2 りんごは何こですか。



(しき)

答え



図をつかって考えよう

たし算とひき算のかんけい 2 (9)

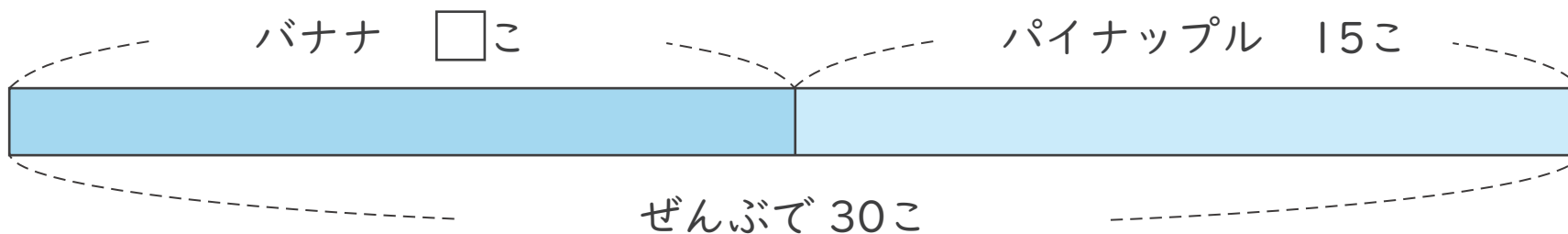
ねん
年

くみ
組

なまえ
名前

図を見て \square をもとめるしきと答えを書きましょう。

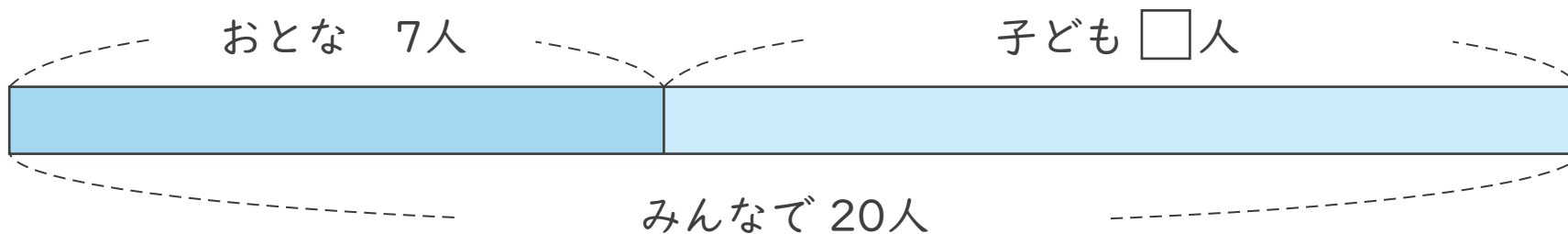
1 バナナは何こですか。



(しき)

答え

2 子どもは何人ですか。



(しき)

答え



図をつかって考えよう

たし算とひき算の かんけい 2 (10)

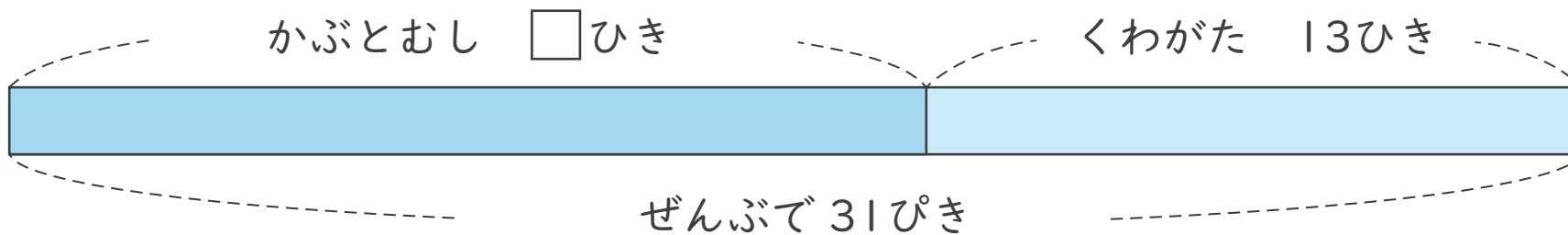
ねん
年

くみ
組

なまえ
名前

図を見て \square をもとめる しきと 答えを 書きましょう。

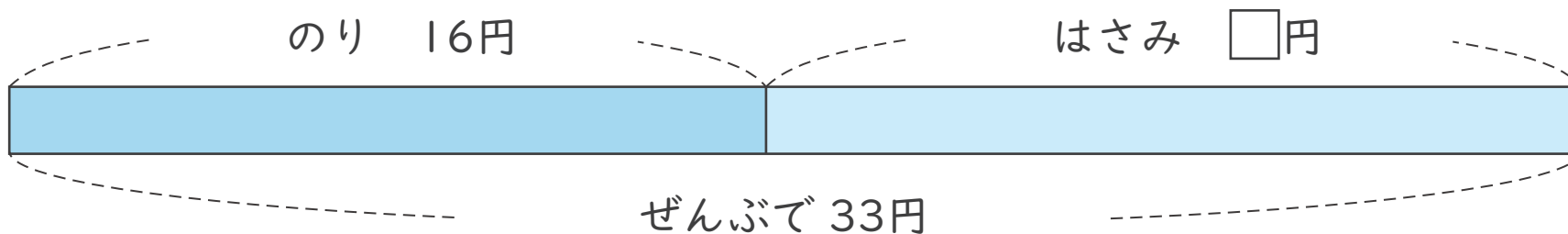
1 かぶとおしは 何ひきですか。



(しき)

答え

2 はさみは いくらですか。



(しき)

答え



図をつかって考えよう

たし算とひき算のかんけい 2 (11)

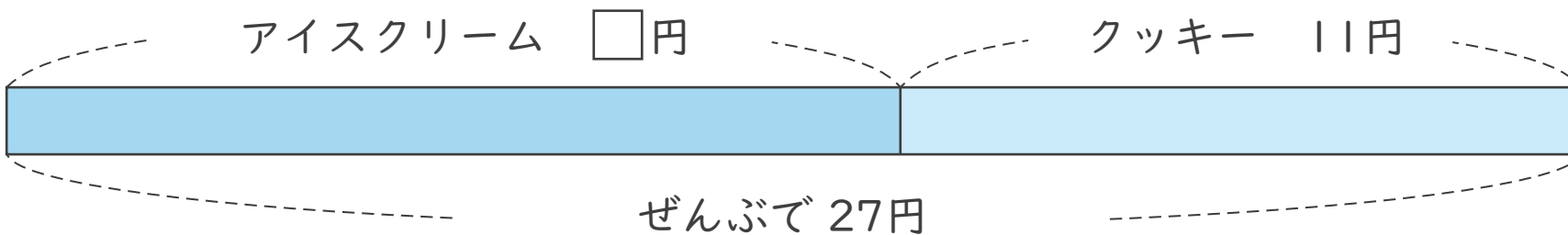
ねん
年

くみ
組

なまえ
名前

図を見て \square をもとめるしきと答えを書きましょう。

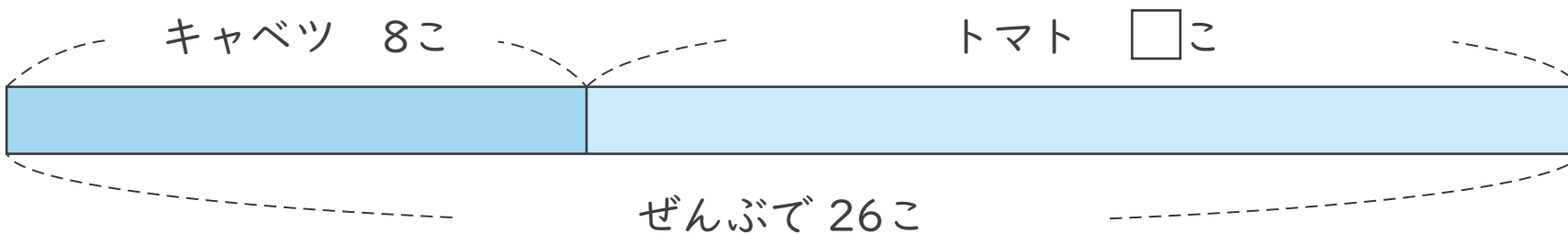
1 アイスクリームはいくらですか。



(しき)

答え

2 トマトは何こですか。



(しき)

答え



図をつかって考えよう

たし算とひき算のかんけい 2 (12)

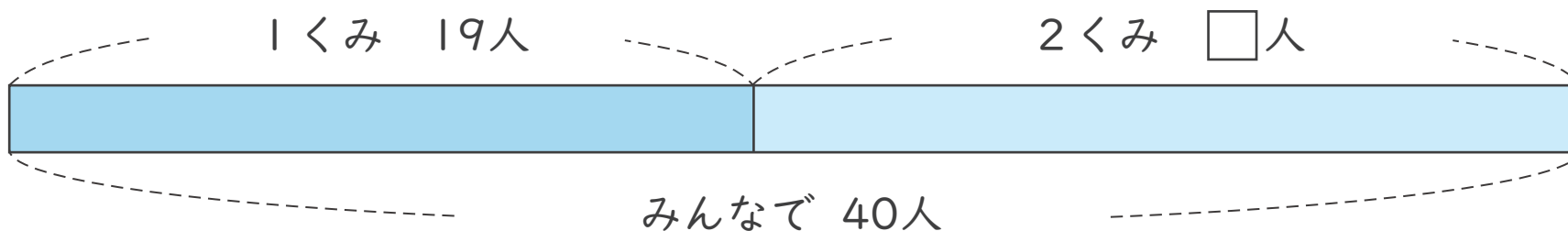
ねん
年

くみ
組

なまえ
名前

図を見て \square をもとめるしきと答えを書きましょう。

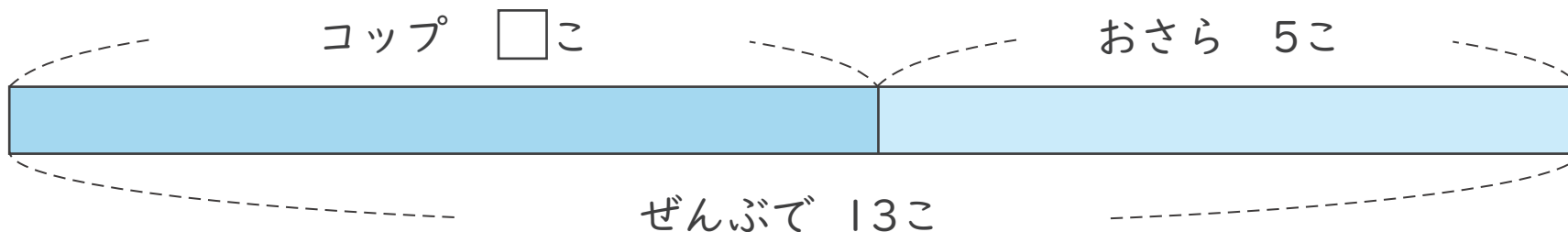
1 2くみは何人ですか。



(しき)

答え

2 コップは何こですか。



(しき)

答え



図をつかって考えよう

たし算とひき算のかんけい 2 (1)

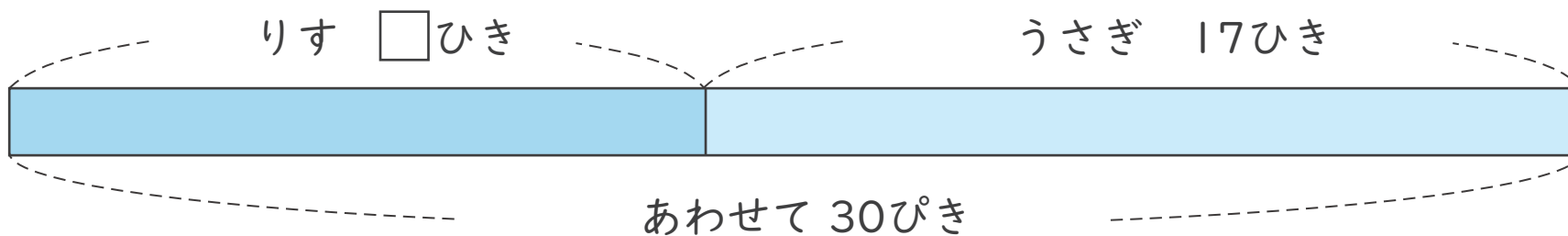
ねん
年

くみ
組

なまえ
名前

図を見て \square をもとめるしきと答えを書きましょう。

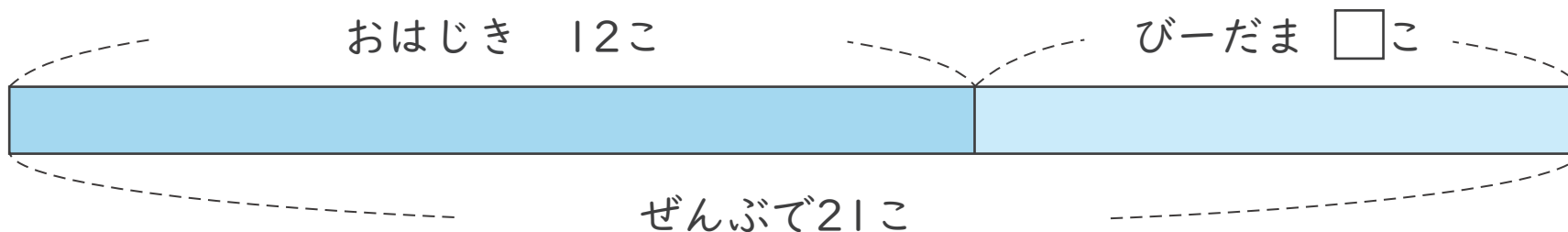
1 うさぎは何ひきですか。



(しき) $30 - 17 = 13$

こた
答え 13ひき

2 ビーだまは何こですか。



(しき) $21 - 12 = 9$

こた
答え 9こ



図をつかって考えよう

たし算とひき算の かんけい 2 (2)

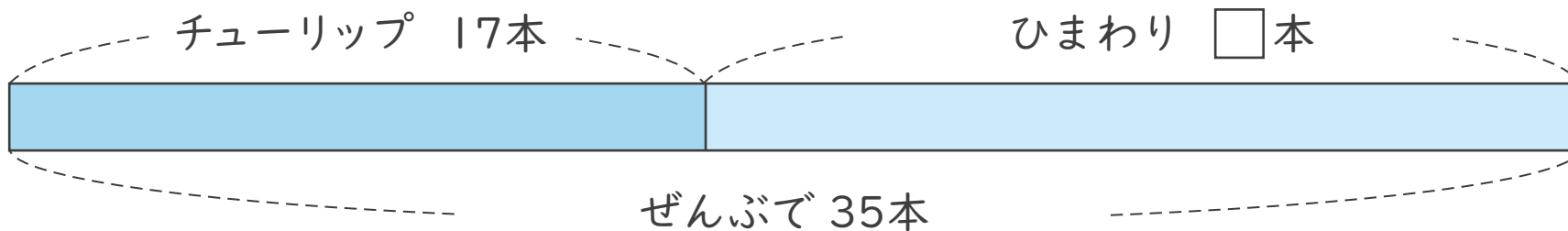
ねん
年

くみ
組

なまえ
名前

図を見て \square をもとめる しきと 答えを 書きましょう。

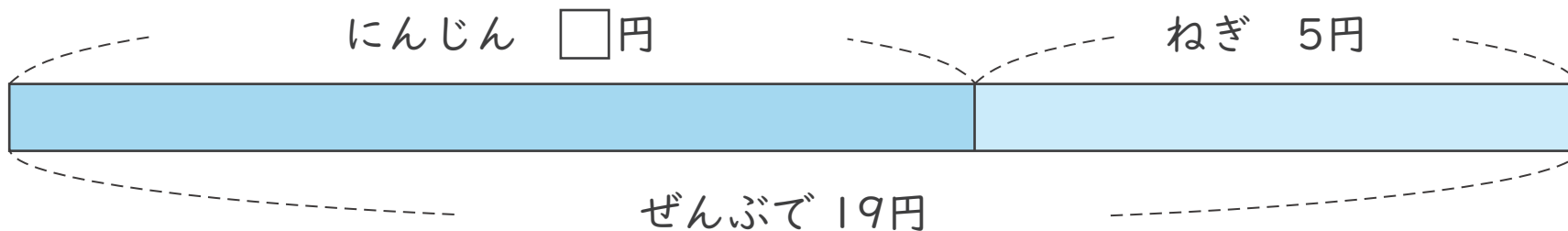
1 ひまわりは 何本ですか。



(しき) $35 - 17 = 18$

答え 18 本

2 にんじんは いくらですか。



(しき) $19 - 5 = 14$

答え 14 円



図をつかって考えよう

たし算とひき算のかんけい 2 (3)

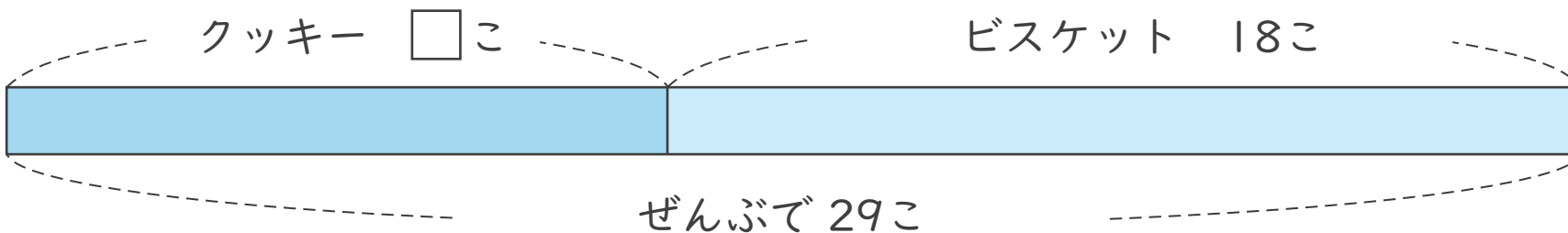
ねん
年

くみ
組

なまえ
名前

図を見て をもとめるしきと答えを書きましょう。

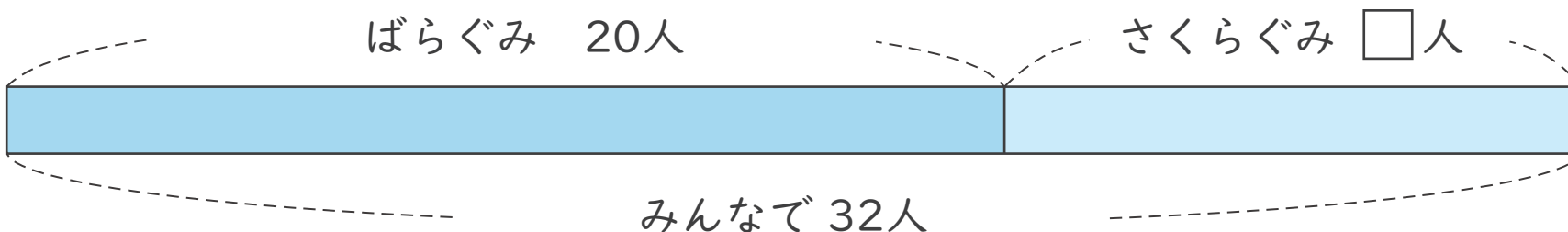
1 クッキーは何こですか。



(しき) $29 - 18 = 11$

答え 11こ

2 さくらぐみは何人ですか。



(しき) $32 - 20 = 12$

答え 12人



図をつかって考えよう

たし算とひき算のかんけい 2 (4)

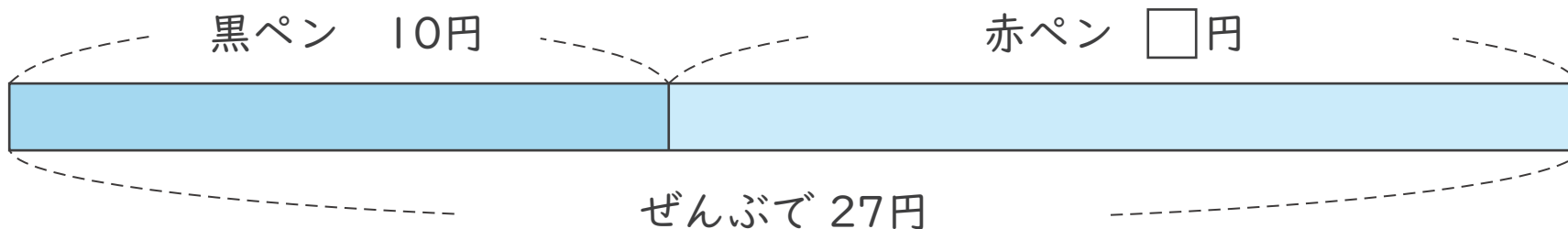
ねん
年

くみ
組

なまえ
名前

図を見て \square をもとめるしきと答えを書きましょう。

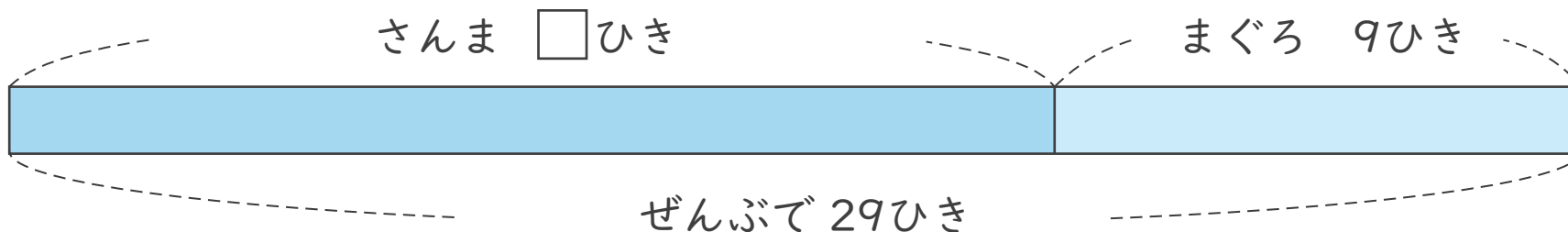
1 赤ペンはいくらですか。



(しき) $27 - 10 = 17$

答え 17円

2 さんまは何びきですか。



(しき) $29 - 9 = 20$

答え 20ひき



図をつかって考えよう

たし算とひき算のかんけい 2 (5)

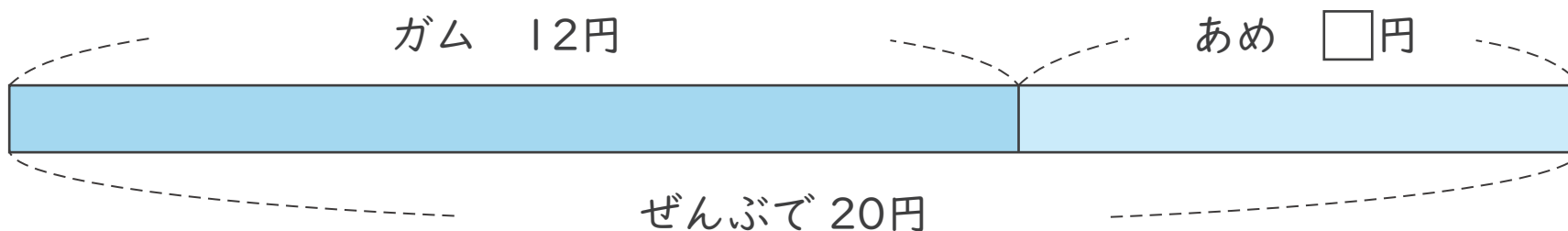
ねん
年

くみ
組

なまえ
名前

図を見て \square をもとめる しきと 答えを 書きましょう。

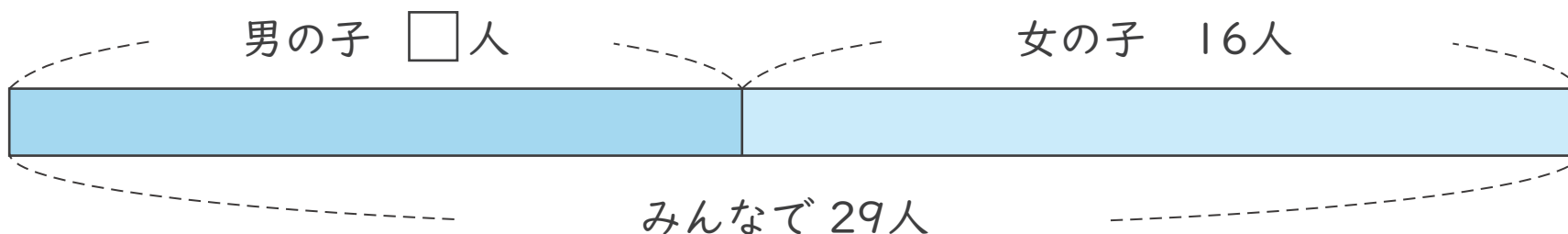
1 あめはいくらですか。



(しき) $20 - 12 = 8$

こた
答え 8 円

2 男の子は何人ですか。



(しき) $29 - 16 = 13$

こた
答え 13 人



図をつかって考えよう

たし算とひき算のかんけい 2 (6)

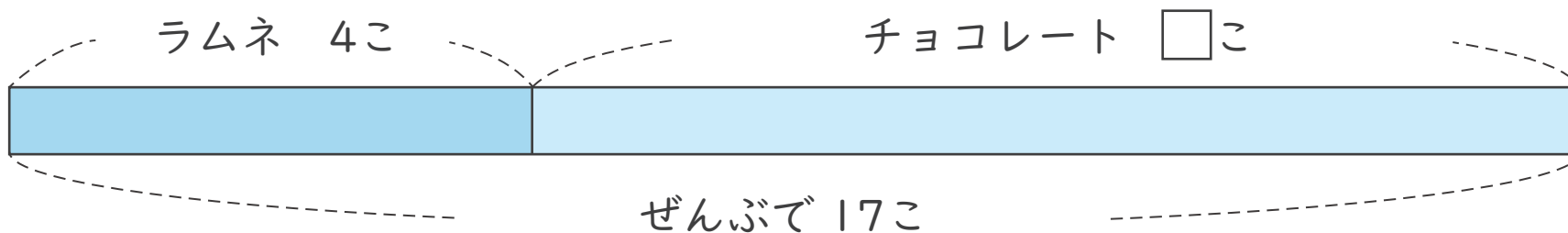
ねん
年

くみ
組

なまえ
名前

図を見て \square をもとめるしきと答えを書きましょう。

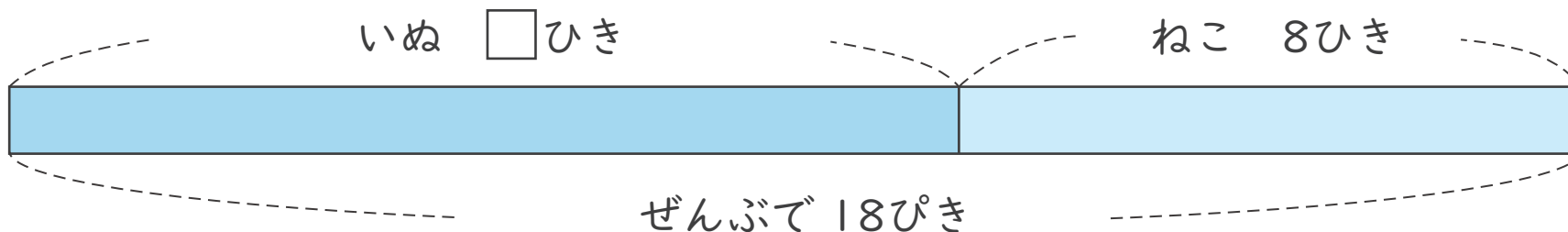
1 チョコレートは何こですか。



(しき) $17 - 4 = 13$

答え 13こ

2 いぬは何びきですか。



(しき) $18 - 8 = 10$

答え 10びき



図をつかって考えよう

たし算とひき算のかんけい 2 (7)

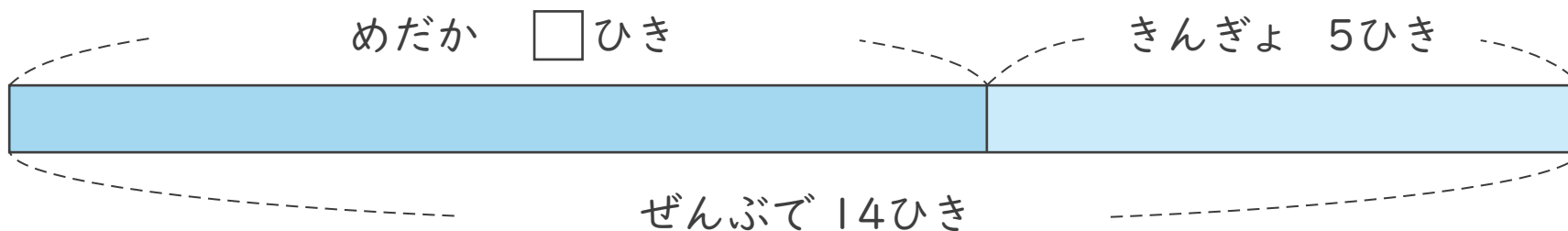
ねん
年

くみ
組

なまえ
名前

図を見て をもとめる しきと 答えを書きましょう。

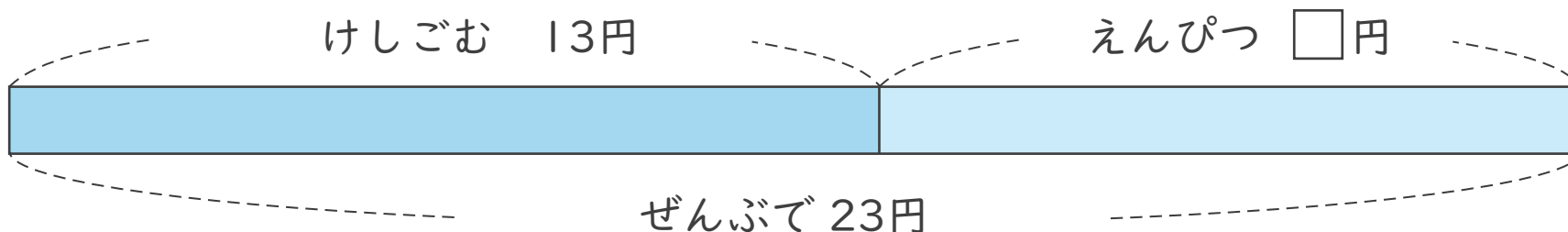
1 めだかは 何ひきですか。



(しき) $14 - 5 = 9$

こた
答え 9 ひき

2 えんぴつは いくらですか。



(しき) $23 - 13 = 10$

こた
答え 10 円



図をつかって考えよう

たし算とひき算のかんけい 2 (8)

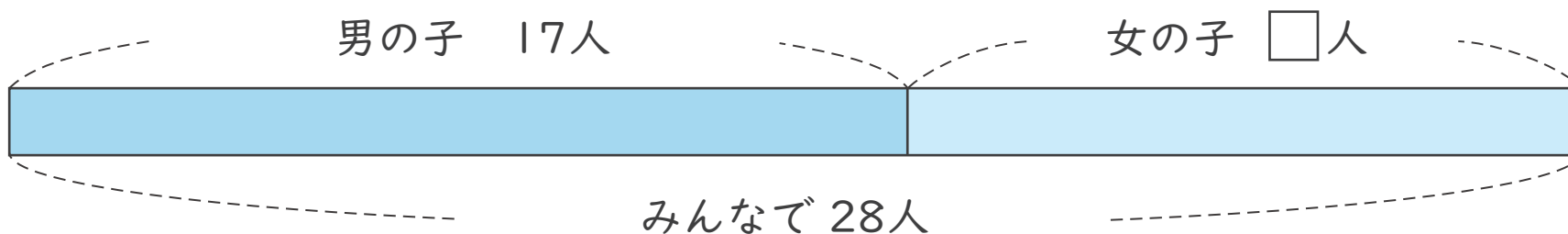
ねん
年

くみ
組

なまえ
名前

図を見て をもとめる しきと 答えを 書きましょう。

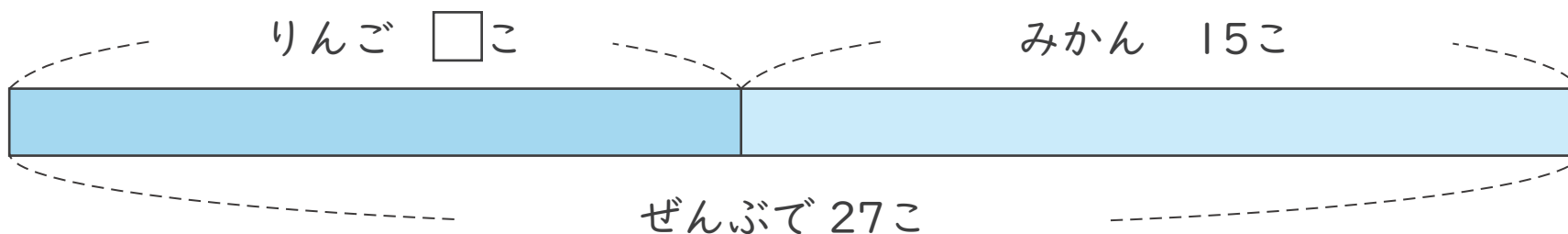
1 女の子は 何人ですか。



(しき) $28 - 17 = 11$

答え 11 人

2 りんごは 何こですか。



(しき) $27 - 15 = 12$

答え 12 こ



図をつかって考えよう

たし算とひき算のかんけい 2 (9)

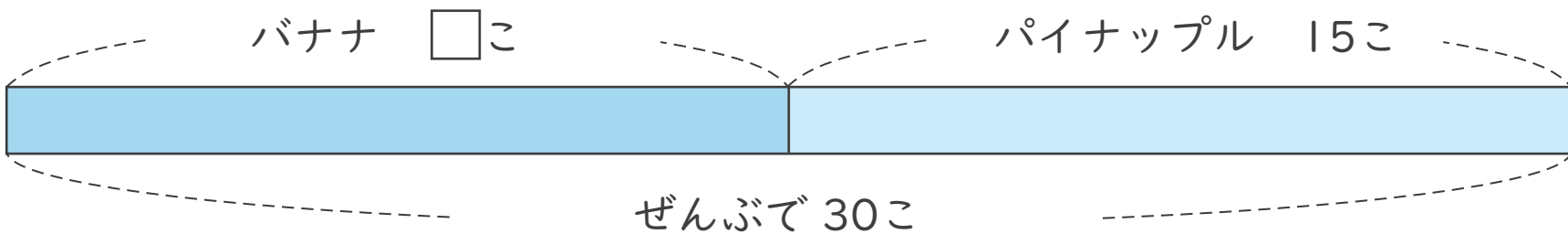
ねん
年

くみ
組

なまえ
名前

図を見て \square をもとめるしきと答えを書きましょう。

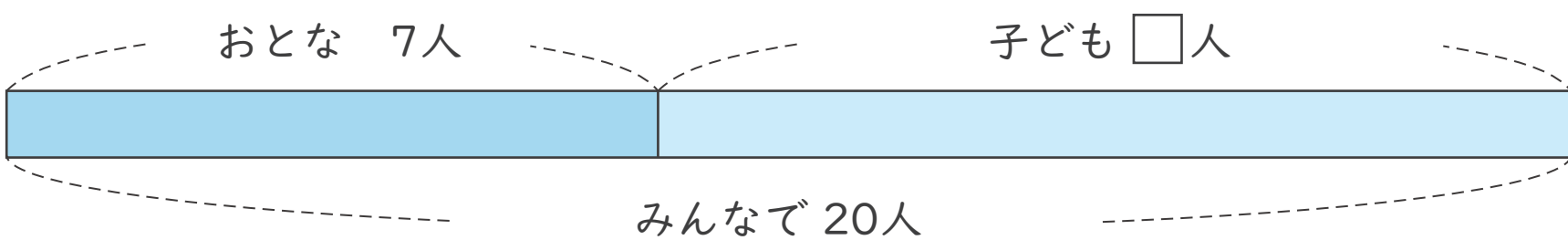
1 バナナは何こですか。



(しき) $30 - 15 = 15$

こた
答え 15 こ

2 子どもは何人ですか。



(しき) $20 - 7 = 13$

こた
答え 13 人



図をつかって考えよう

たし算とひき算の かんけい 2 (10)

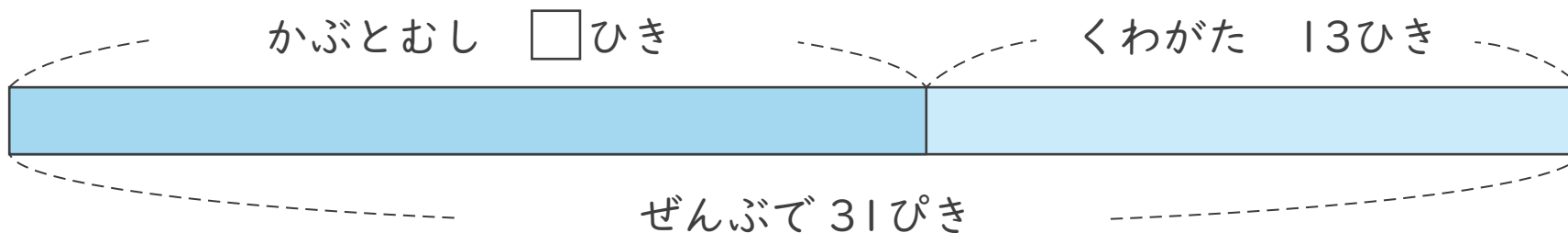
ねん
年

くみ
組

なまえ
名前

図を見て \square をもとめる しきと 答えを 書きましょう。

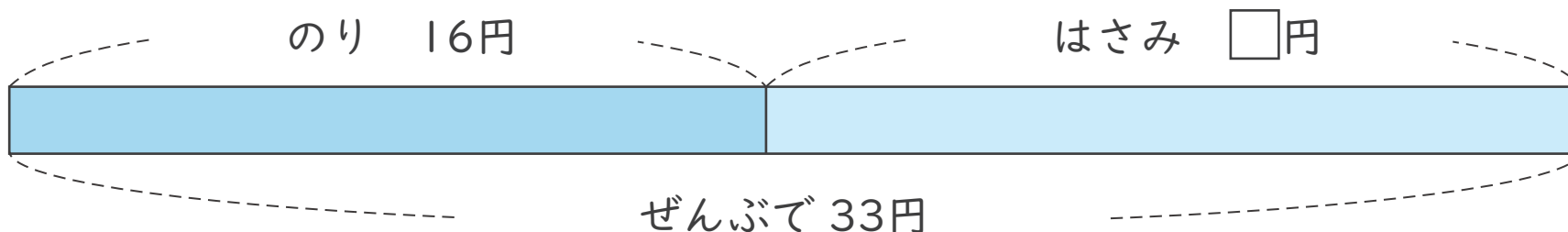
1 かぶとおしは 何ひきですか。



(しき) $31 - 13 = 18$

答え 18ひき

2 はさみは いくらですか。



(しき) $33 - 16 = 17$

答え 17円



図をつかって考えよう

たし算とひき算のかんけい 2 (11)

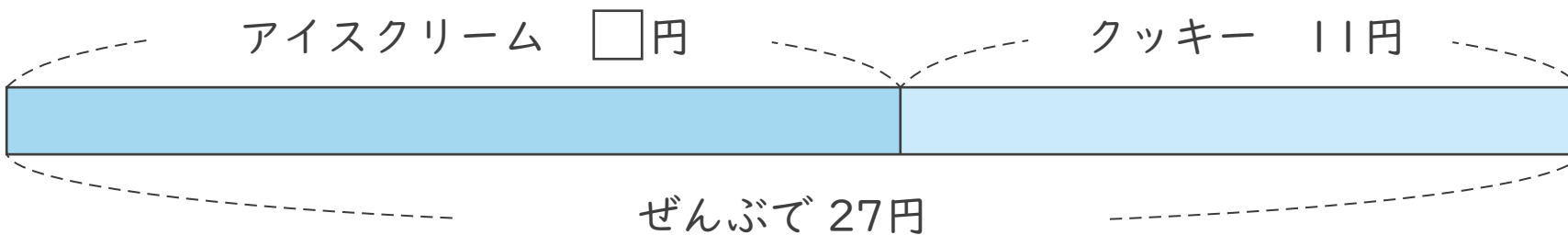
ねん
年

くみ
組

なまえ
名前

図を見て \square をもとめるしきと答えを書きましょう。

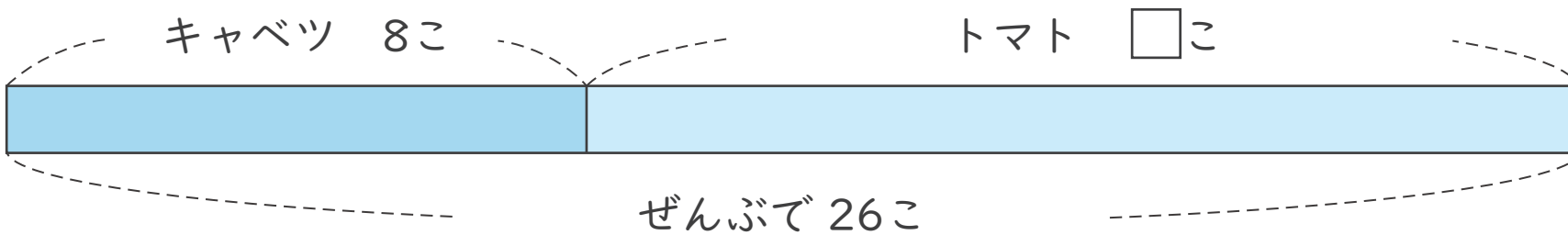
1 アイスクリームはいくらですか。



(しき) $27 - 11 = 16$

答え 16円

2 トマトは何こですか。



(しき) $26 - 8 = 18$

答え 18こ



図をつかって考えよう

たし算とひき算のかんけい 2 (12)

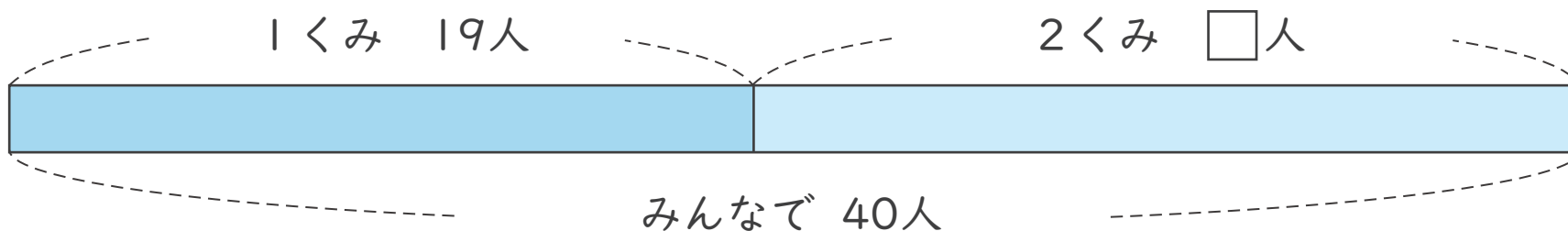
ねん
年

くみ
組

なまえ
名前

図を見て \square をもとめるしきと答えを書きましょう。

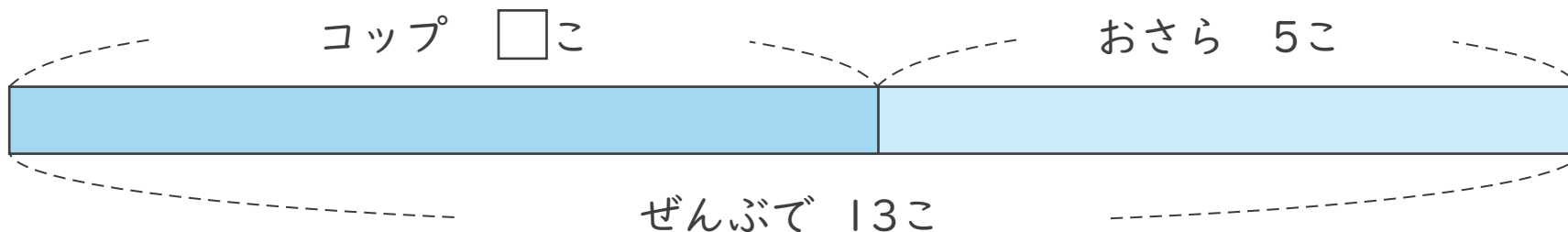
1 2くみは何人ですか。



(しき) $40 - 19 = 21$

こたえ 21人

2 コップは何こですか。



(しき) $13 - 5 = 8$

こたえ 8こ